

**Проверочная работа  
по ИНФОРМАТИКЕ**

7 класс

Образец

**Пояснение к образцу проверочной работы**

На выполнение проверочной работы по информатике отводится два урока (не более 45 минут каждый). Работа состоит из двух частей и включает в себя 15 заданий. Задания части 2 выполняются на компьютере.

Обе части работы могут выполняться в один день с перерывом не менее 10 минут или в разные дни.

При выполнении работы не разрешается пользоваться учебниками, рабочими тетрадями, справочным материалом.

При необходимости можно пользоваться черновиком. Записи в черновике проверяться и оцениваться не будут.

*Таблица для внесения баллов участника\**

Номер задания	Часть 1												Часть 2			Сумма баллов	Отметка за работу	
	1	2	3	4	5	6	7	8	9	10	11	12	13	14	15			
Баллы																		

\* *Обратите внимание:* в случае, если какие-либо задания не могли быть выполнены целым классом по причинам, связанным с особенностями организации учебного процесса, в форме сбора результатов ВПР всем обучающимся класса за данные задания вместо баллов выставляется значение «Тема не пройдена». В соответствующие ячейки таблицы заполняется н/п.

### **Инструкция по выполнению заданий части 1 проверочной работы**

На выполнение заданий части 1 проверочной работы по информатике отводится один урок (не более 45 минут). Часть 1 включает в себя 12 заданий.

Ответы на задания запишите в поля ответов в тексте работы. В случае записи неверного ответа зачеркните его и запишите рядом новый.

При выполнении работы не разрешается пользоваться учебниками, рабочими тетрадями, справочным материалом.

При необходимости можно пользоваться черновиком. Записи в черновике проверяться и оцениваться не будут.

Советуем выполнять задания в том порядке, в котором они даны. В целях экономии времени пропускайте задание, которое не удаётся выполнить сразу, и переходите к следующему. Если после выполнения работы у Вас останется время, то Вы сможете вернуться к пропущенным заданиям.

***Желаем успеха!***

## Часть 1

1

Выберите устройства ввода информации и запишите в ответе их номера в порядке возрастания.

- 1) сканер
- 2) принтер
- 3) процессор
- 4) жёсткий диск
- 5) колонки
- 6) микрофон
- 7) USB-флеш-накопитель
- 8) тачпад

Ответ: \_\_\_\_\_

2

В некотором каталоге хранился файл **Фото.jpg**. После того как в этом каталоге создали подкаталог **Лето** и переместили в него файл **Фото.jpg**, полное имя файла стало

**С:\Документы\Фотографии\Лето\Фото.jpg**

Укажите полное имя этого файла до перемещения.

- 1) С:\Документы\Фотографии\
- 2) С:\Документы\Фотографии\Фото.jpg
- 3) С:\Фотографии\Документы\Фото.jpg
- 4) С:\Фотографии\Лето\Фото.jpg

Ответ:

3

Установите соответствие между расширениями и типами файлов: для каждой позиции первого столбца, обозначенной буквами, подберите соответствующую позицию из второго столбца, обозначенную цифрой.

**РАСШИРЕНИЯ**

- А) docx
- Б) mp3
- В) png
- Г) 7z
- Д) rar
- Е) jpg
- Ж) txt

**ТИПЫ ФАЙЛОВ**

- 1) текстовый файл
- 2) звуковой файл
- 3) архив
- 4) графический файл

Запишите в таблицу выбранные цифры под соответствующими буквами.

Ответ:

А	Б	В	Г	Д	Е	Ж

4

Доступ к файлу **info.docx**, находящемуся на сервере **test.org**, осуществляется по протоколу **https**. Фрагменты адреса файла закодированы цифрами от 1 до 7. Запишите последовательность этих цифр, кодирующую адрес указанного файла в сети Интернет.

- 1) test
- 2) ://
- 3) info.
- 4) .org
- 5) docx
- 6) /
- 7) https

Ответ: \_\_\_\_\_

5 На выставку пришли три девочки: Мария, Ирина, Светлана. Фамилии девочек – Миронова, Иванова, Сергеева. Светлана обратила внимание Ивановой на то, что ни у одной из них первая буква имени и первая буква фамилии не совпадают. Какая фамилия у каждой девочки? Для каждого имени девочки укажите её фамилию.

<b>ИМЕНА</b>	<b>ФАМИЛИИ</b>
А) Мария Б) Ирина В) Светлана	1) Миронова 2) Иванова 3) Сергеева

Запишите в таблицу выбранные цифры под соответствующими буквами.

Ответ:

А	Б	В

6 От разведчика была получена следующая радиограмма, зашифрованная с использованием азбуки Морзе:

• - - • • - • • - - - - -

При передаче радиограммы было потеряно разбиение на буквы, но известно, что в радиограмме использовались только следующие буквы:

А	В	Л	О	П	Р
• -	• - -	• - • •	- - -	• - - •	• - •

Расшифруйте радиограмму.  
Запишите в ответе расшифрованную радиограмму.

Ответ: \_\_\_\_\_

7 Сколько видеофайлов размером 512 Мбайт может уместиться на Flash-карте объёмом 4 Гбайт?

Ответ: \_\_\_\_\_

8 Сообщение, записанное буквами 32-символьного алфавита, содержит 40 символов. Чему равен информационный объём этого сообщения в байтах? Единицы измерения писать не нужно.

Ответ: \_\_\_\_\_

9 Скорость передачи данных через некоторое соединение равна 2 048 000 бит/с. Передача файла через данное соединение заняла 8 секунд. Определите размер файла в Кбайт. В ответе укажите одно число – размер файла в Кбайт. Единицы измерения писать не нужно.

Ответ: \_\_\_\_\_

10 В одной из кодировок Unicode каждый символ кодируется 16 битами. Определите информационный объём в байтах следующего предложения в данной кодировке:

**Мама мыла раму.**

Единицы измерения писать не нужно.

Ответ: \_\_\_\_\_

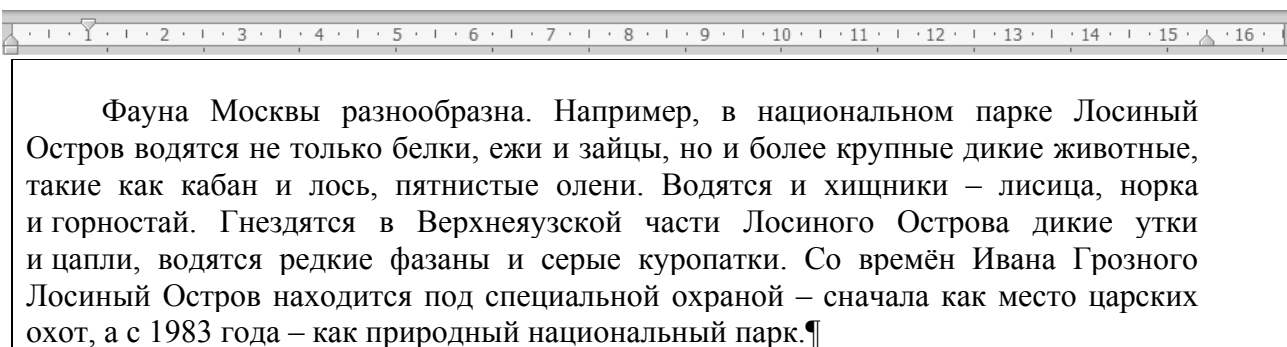
11 Какой цвет в цветовой модели RGB кодируется как (255, 255, 255)?

1) Белый                      2) Жёлтый                      3) Пурпурный                      4) Чёрный

Ответ:

12

В текстовом редакторе набран текст.



Выберите свойства абзацев, присутствующие в данном тексте. В ответе запишите номера свойств в порядке возрастания.

- | Номер | Свойства абзацев             |
|-------|------------------------------|
| 1)    | Отступ первой строки         |
| 2)    | Выступ первой строки         |
| 3)    | Отступ слева                 |
| 4)    | Отступ справа                |
| 5)    | Выравнивание по левому краю  |
| 6)    | Выравнивание по правому краю |
| 7)    | Выравнивание по центру       |
| 8)    | Выравнивание по ширине       |

Ответ: \_\_\_\_\_

### **Инструкция по выполнению заданий части 2 проверочной работы**

На выполнение заданий части 2 проверочной работы по информатике отводится один урок (не более 45 минут). Часть 2 включает в себя 3 задания, которые выполняются на компьютере.

Ответ на 13 задание запишите в поле ответов в тексте работы. В случае записи неверного ответа зачеркните его и запишите рядом новый.

Результатом выполнения каждого из заданий 14 и 15 является отдельный файл. Его имя и каталог для сохранения Вам сообщат организаторы.

При выполнении работы не разрешается пользоваться учебниками, рабочими тетрадями, справочным материалом.

При необходимости можно пользоваться черновиком. Записи в черновике проверяться и оцениваться не будут.

Советуем выполнять задания в том порядке, в котором они даны. В целях экономии времени пропускайте задание, которое не удаётся выполнить сразу, и переходите к следующему. Если после выполнения работы у Вас останется время, то Вы сможете вернуться к пропущенным заданиям.

***Желаем успеха!***



## Часть 2

- 13 В повести Н.В. Гоголя «Тарас Бульба», текст которой приведён в подкаталоге каталога **Проза**, один из персонажей говорит другому, за сколько червонцев можно побрить полбороды. С помощью поисковых средств текстового редактора выясните эту цену. Ответ запишите цифрами.

Ответ: \_\_\_\_\_

- 14 Создайте в текстовом редакторе документ, точно воспроизведя всё оформление текста, имеющееся в образце (после черты). Для удобства Вы можете открыть файл «14.TXT» и взять из него текст.

Данный текст содержит два абзаца, заголовок и таблицу, должен быть набран шрифтом размером 14 пунктов обычного начертания. Отступ первой строки абзацев основного текста – 1 см. Расстояние между строками текста не менее одинарного, но не более полуторного междустрочного интервала. Основной текст выровнен по ширине; заголовки в тексте и таблице – по центру; в ячейках первого столбца применено выравнивание по левому краю; в ячейках второго столбца – по центру. В основном тексте и таблице есть слова, выделенные полужирным шрифтом, курсивом или подчёркиванием. Таблица выровнена на странице по центру по горизонтали. Ширина таблицы меньше ширины основного текста.

При этом допустимо, чтобы ширина Вашего текста отличалась от ширины текста в примере, поскольку ширина текста зависит от размеров страницы и полей. В этом случае разбиение текста на строки должно соответствовать стандартной ширине абзаца.

Текст сохраните в файле, имя которого Вам сообщат организаторы.

Файл ответа необходимо сохранить в одном из следующих форматов: \*.odt, или \*.doc, или \*.docx.

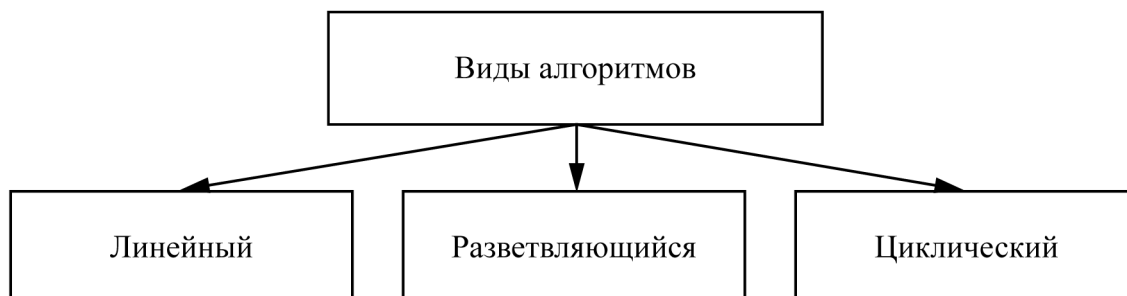
**Полуостров** – часть суши, которая с одной стороны примыкает к материку или острову, а со всех остальных сторон омывается водами.

По своему происхождению различаются следующие группы полуостровов: отчленившиеся (продолжение суши в геологическом отношении – Апеннинский); присоединившиеся к материку (геологически не связаны с материком – Индостан); аккумулятивные (чаще всего образуются в реках и озёрах).

## Крупнейшие полуострова

<i>Полуострова</i>	<i>Площадь, тыс. км<sup>2</sup></i>
Аравийский	3250
Индокитай	2400
Индостан	2000
Лабрадор	1400
Скандинавский	800

- 15 Нарисуйте в любом графическом редакторе или редакторе презентаций изображение: четыре прямоугольника, три линии со стрелками, четыре текстовых фрагмента.  
Изображение сохраните в файле, имя которого Вам сообщат организаторы.



**Система оценивания проверочной работы****Часть 1**

Правильный ответ на каждое из заданий 1–11 оценивается 1 баллом. Задание считается выполненным верно, если ответ записан в той форме, которая указана в инструкции по выполнению задания.

Полный правильный ответ на задание 12 оценивается 2 баллами. Если в ответе допущена одна ошибка (в том числе написана лишняя цифра или не написана одна необходимая цифра), выставляется 1 балл; если допущено две или более ошибки – 0 баллов.

<b>Номер задания</b>	<b>Правильный ответ</b>
1	168
2	2
3	1243341
4	7214635
5	231
6	право
7	8
8	25
9	2000
10	30
11	1
12	148

## Система оценивания проверочной работы

## Часть 2

Правильный ответ на задание 13 оценивается 1 баллом.

Номер задания	Правильный ответ
13	2

14

Создайте в текстовом редакторе документ, точно воспроизведя всё оформление текста, имеющееся в образце (после черты). Для удобства Вы можете открыть файл «14.TXT» и взять из него текст.

Данный текст содержит два абзаца, заголовок и таблицу, должен быть набран шрифтом размером 14 пунктов обычного начертания. Отступ первой строки абзацев основного текста – 1 см. Расстояние между строками текста не менее одинарного, но не более полуторного междустрочного интервала. Основной текст выровнен по ширине; заголовки в тексте и таблице – по центру; в ячейках первого столбца применено выравнивание по левому краю; в ячейках второго столбца – по центру. В основном тексте и таблице есть слова, выделенные полужирным шрифтом, курсивом или подчёркиванием. Таблица выровнена на странице по центру по горизонтали. Ширина таблицы меньше ширины основного текста.

При этом допустимо, чтобы ширина Вашего текста отличалась от ширины текста в примере, поскольку ширина текста зависит от размеров страницы и полей. В этом случае разбиение текста на строки должно соответствовать стандартной ширине абзаца.

Текст сохраните в файле, имя которого Вам сообщат организаторы.

Файл ответа необходимо сохранить в одном из следующих форматов: \*.odt, или \*.doc, или \*.docx.

**Полуостров** – часть суши, которая с одной стороны примыкает к материку или острову, а со всех остальных сторон омывается водами.

По своему происхождению различаются следующие группы полуостровов: отчленившиеся (*продолжение суши в геологическом отношении – Апеннинский*); присоединившиеся к материку (*геологически не связаны с материком – Индостан*); аккумулятивные (*чаще всего образуются в реках и озёрах*).

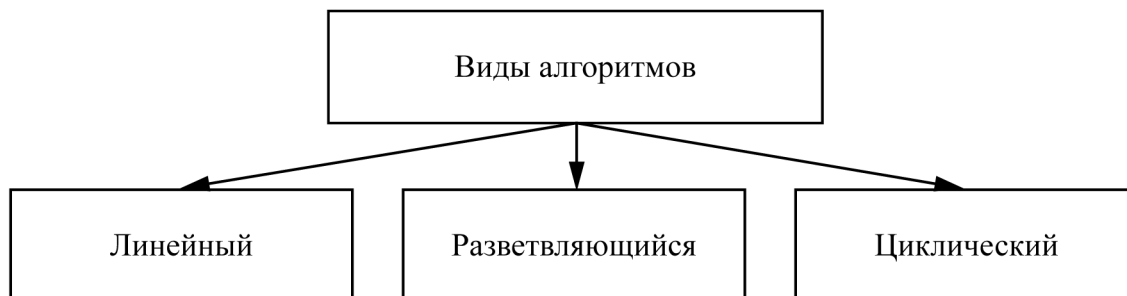
## Крупнейшие полуострова

<i>Полуострова</i>	<i>Площадь, тыс. км<sup>2</sup></i>
Аравийский	3250
Индокитай	2400
Индостан	2000
Лабрадор	1400
Скандинавский	800

Содержание верного ответа и указания по оцениванию		
Правильным решением является текст, соответствующий заданному образцу		
Указания по оцениванию		Баллы
Задание выполнено правильно. При проверке задания контролируется выполнение следующих элементов		3
<b>Основной текст</b>	<ul style="list-style-type: none"> <li>• Текст набран прямым нормальным шрифтом размером 14 пт.</li> <li>• Верно выделены <b>все</b> необходимые слова полужирным, курсивным или подчёркнутым начертанием.</li> <li>• Междустрочный интервал не менее одинарного, но не более полуторного.</li> <li>• Текст в абзацах выровнен по ширине.</li> <li>• Заголовок выровнен по центру.</li> <li>• Правильно установлен абзацный отступ (1 см), не допускается использование пробелов для задания абзацного отступа.</li> <li>• Разбиение текста на строки осуществляется текстовым редактором (не используются разрывы строк для перехода на новую строку).</li> <li>• Допускается всего не более пяти ошибок, среди них: орфографических (пунктуационных) ошибок, ошибок в расстановке пробелов между словами, знаков препинания, пропущенные слова</li> </ul>	
<b>Таблица</b>	<ul style="list-style-type: none"> <li>• Таблица имеет необходимое количество строк и столбцов.</li> <li>• В ячейках таблицы верно выделены <b>все</b> необходимые слова полужирным, курсивным начертанием или подчёркиванием.</li> <li>• Текст в ячейках первого столбца выровнен по левому краю.</li> <li>• Текст в ячейках второго столбца выровнен по центру.</li> <li>• Текст в ячейках заголовков таблицы выровнен по центру.</li> <li>• Ширина таблицы меньше ширины текста.</li> <li>• Таблица выровнена по центру горизонтали.</li> <li>• Допускается всего не более трёх ошибок: орфографических (пунктуационных) ошибок, ошибки в обозначении верхнего индекса, а также ошибок в расстановке пробелов между словами и знаков препинания, пропущенные слова</li> </ul>	
Не выполнены условия, позволяющие поставить 3 балла. При выполнении каждого элемента задания (основного текста или таблицы) допущено суммарно не более трёх нарушений требований, перечисленных выше		2
Не выполнены условия, позволяющие поставить 2 балла. При выполнении каждого элемента задания (основного текста или таблицы) допущено не более трёх нарушений требований по каждому элементу, перечисленных выше. ИЛИ Полностью верно выполнен основной текст, а количество ошибок, допущенных в таблице, превышает три, либо таблица отсутствует. ИЛИ Таблица выполнена полностью верно, но отсутствует основной текст либо количество ошибок в основном тексте превышает три		1
Не выполнены условия, позволяющие поставить 1, 2 или 3 балла		0
<i>Максимальный балл</i>		3

15

Нарисуйте в любом графическом редакторе или редакторе презентаций изображение: четыре прямоугольника, три линии со стрелками, четыре текстовых фрагмента  
Изображение сохраните в файле, имя которого Вам сообщат организаторы.



Содержание верного ответа и указания по оцениванию	
Правильным решением является изображение, соответствующее заданному образцу	
Указания по оцениванию	Баллы
Задание выполнено правильно. Количество и расположение фигур и текстовых фрагментов, содержание текстовых фрагментов совпадают с оригиналом. Пропорции фрагментов и размер текста могут различаться	2
Не выполнены условия, позволяющие поставить 2 балла. Допущено не более четырёх нарушений из следующих: – неверно расположена фигура; – текст перекрывает фигуры (рамка текста перекрывает фигуры); – текстовый фрагмент не соответствует образцу; – отсутствует фигура или текстовый фрагмент	1
Не выполнены условия, позволяющие поставить 1 или 2 балла	0
<i>Максимальный балл</i>	2

### Система оценивания выполнения всей работы

Максимальный первичный балл за выполнение работы – 19.

*Рекомендуемая таблица перевода баллов в отметки по пятибалльной шкале*

Отметка по пятибалльной шкале	«2»	«3»	«4»	«5»
Первичные баллы	0–5	6–10	11–15	16–19